

# Олимпиада по технологии

(столярное дело)

Фамилия, имя участника \_\_\_\_\_ Класс \_\_\_\_\_

## 1. Отгадайте загадки, запишите ответы. (3 балла)

Сам в комнате, а голова на улице - \_\_\_\_\_

Сам худ, а голова с пуд - \_\_\_\_\_

Где упрется хвостом, станет дырка потом - \_\_\_\_\_

## 2. Закончите пословицы, запишите ответы. (3 балла)

Без труда - \_\_\_\_\_

Поспешишь - \_\_\_\_\_

Семь раз - \_\_\_\_\_

## 3. Переведите сантиметры в миллиметры и наоборот, запишите ответы. (3 балла)

90 миллиметров – это \_\_\_\_\_ сантиметров.

5 сантиметров – это \_\_\_\_\_ миллиметров.

47 миллиметров – это \_\_\_\_\_ сантиметров, \_\_\_\_\_ миллиметров.

## 4. Запишите названия пиломатериалов под каждым рисунком. (3 балла)



1 \_\_\_\_\_ 2 \_\_\_\_\_ 3 \_\_\_\_\_

## 5. Листья каких деревьев на рисунках? Запишите ответы. (3 балла)



\_\_\_\_\_

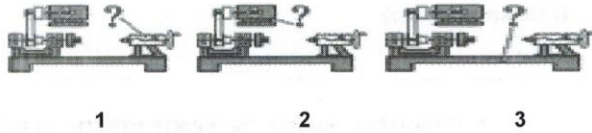


\_\_\_\_\_




\_\_\_\_\_


6. Где у токарного станка по обработке древесины станина? Обведите номер ответа. (3 балла)




7. Какая пила называется лучковой? Обведите номер ответа. (3 балла)



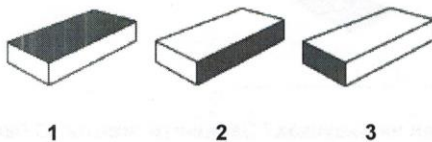
8. Где у рубанка клин? Обведите номер ответа. (3 балла)



9. Где правильная разметка центра сверления? Обведите номер ответа. (3 балла)



10. На каком рисунке выделен торец? Обведите номер ответа. (3 балла)



11. Как правильно закрепить пилку лобзика? Обведите номер ответа. (3 балла)



Максимальное количество баллов – 33.

Набранное количество баллов \_\_\_\_\_, занятое место \_\_\_\_\_.